

Definition:

Die Funktion $f: x \rightarrow y$ ordnet jedem x eindeutig ein y zu. Kann umgekehrt auch jedem y eindeutig ein x zugeordnet werden, so entsteht die Umkehrfunktion oder inverse Funktion von f . Sie wird mit f^{-1} bezeichnet, d.h.

$$f^{-1} : y \rightarrow x$$

Bei gegebener Funktionsgleichung $y = f(x)$ erhält man die Funktionsgleichung der Umkehrfunktion in zwei Schritten:

1. Schritt: Umstellen der Funktionsgleichung nach x : $x = f^{-1}(y)$

2. Schritt: Vertauschen der Bezeichnung der Variablen (damit die abhängige und unabhängige Variable die übliche Bezeichnung erhalten):

$$y = f^{-1}(x)$$

Dieser Schritt hat formalen Charakter.

Umkehrfunktion: Aufgaben 1-6



Bestimmen Sie die Umkehrfunktionen folgender Funktionen:

Aufgabe 1: $f : y = \frac{x}{2} - 1$

Aufgabe 2: $f : y = 3x - 2$

Aufgabe 3: $f : y = -x + 2$

Aufgabe 4: $f : y = \frac{1}{2x}$

Aufgabe 5: $f : y = \frac{x^2}{2}$

Aufgabe 6: $f : y = x^6$

Umkehrfunktion: Lösung 1

$$y = f(x), \quad y = \frac{x}{2} - 1$$

1. Schritt: Die Funktionsgleichung nach der Variablen x auflösen:

$$f^{-1} : x = 2y + 2 = f^{-1}(y)$$

2. Schritt: Die Variablen x und y miteinander vertauschen:

$$f^{-1} : y = 2x + 2 = f^{-1}(x)$$

An der folgenden Abbildung erkennt man, dass die Graphen der Funktion und der Umkehrfunktion symmetrisch zur Geraden mit der Gleichung $y = x$ liegen.

Umkehrfunktion: Lösung 1

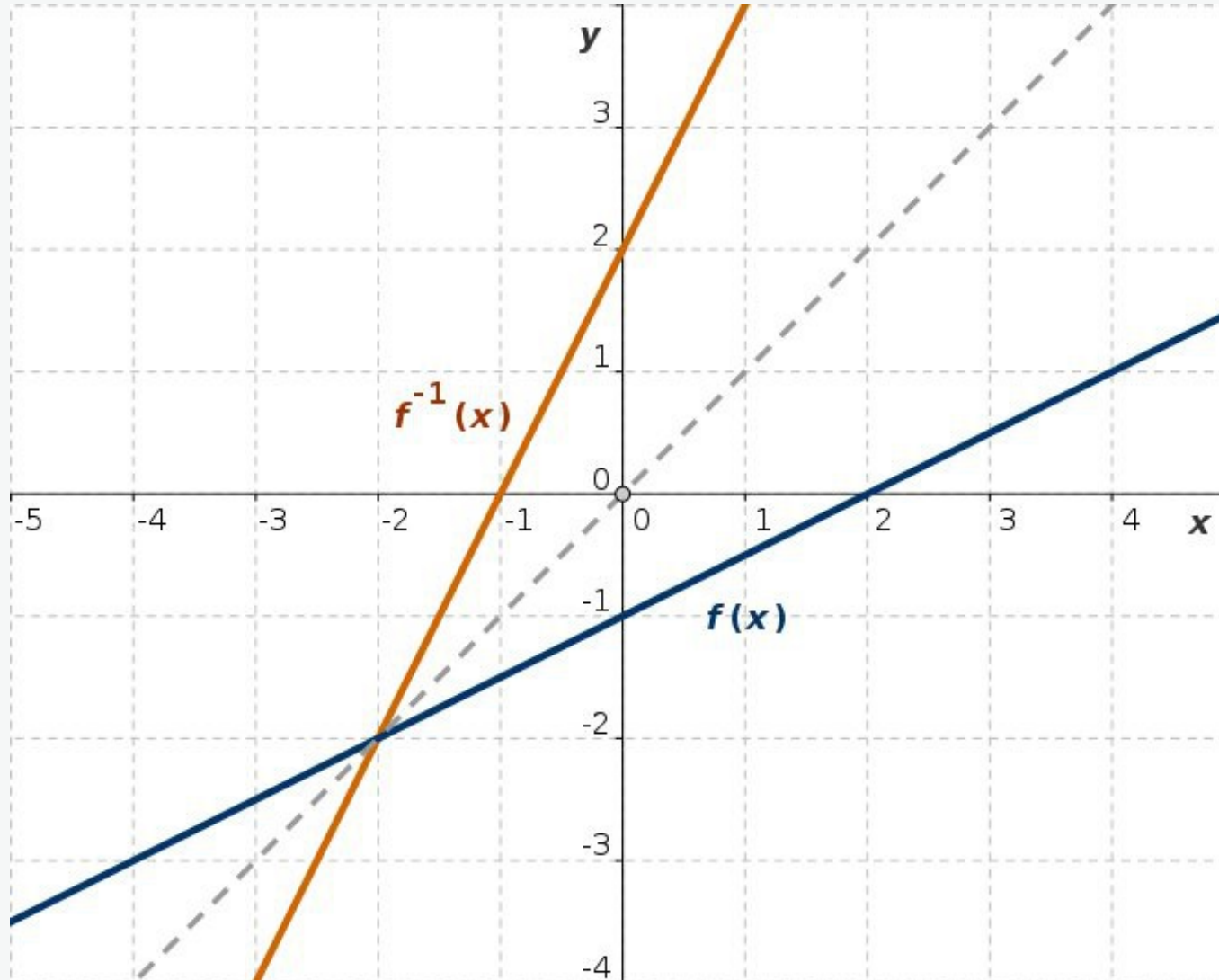


Abb. L1: Funktion (blau) und Umkehrfunktion (rot) sind symmetrisch in Bezug auf die Gerade $y = x$

$$f(x) = \frac{x}{2} - 1, \quad f^{-1}(x) = 2x + 2$$

Umkehrfunktion: Lösung 2

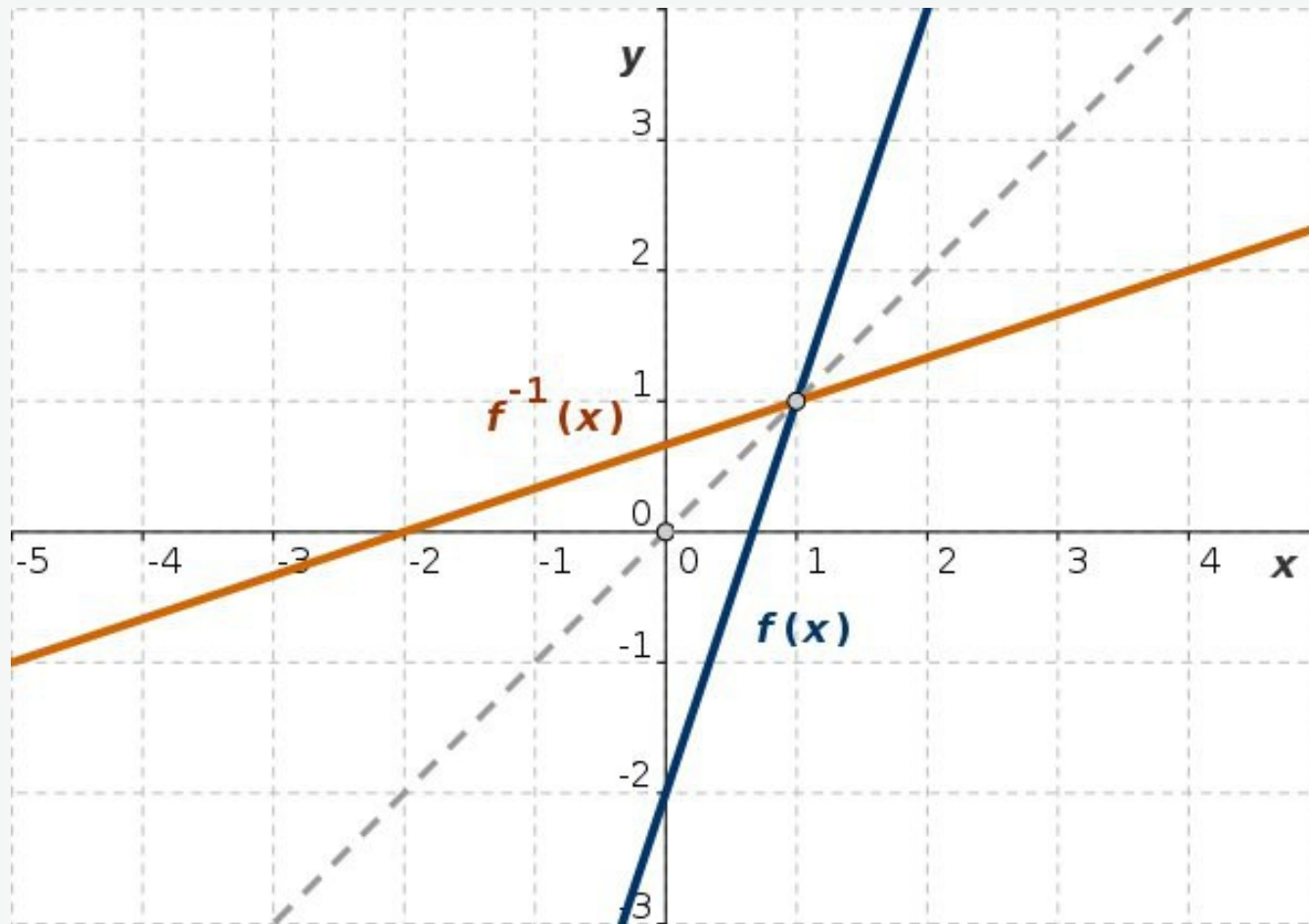


Abb. L2: Funktion (blau) und Umkehrfunktion (rot)

$$f : y = 3x - 2, \quad f^{-1} : x = \frac{y + 2}{3} = f^{-1}(y)$$

$$f^{-1} : y = \frac{x + 2}{3} = \frac{x}{3} + \frac{2}{3} = f^{-1}(x)$$

Umkehrfunktion: Lösung 3

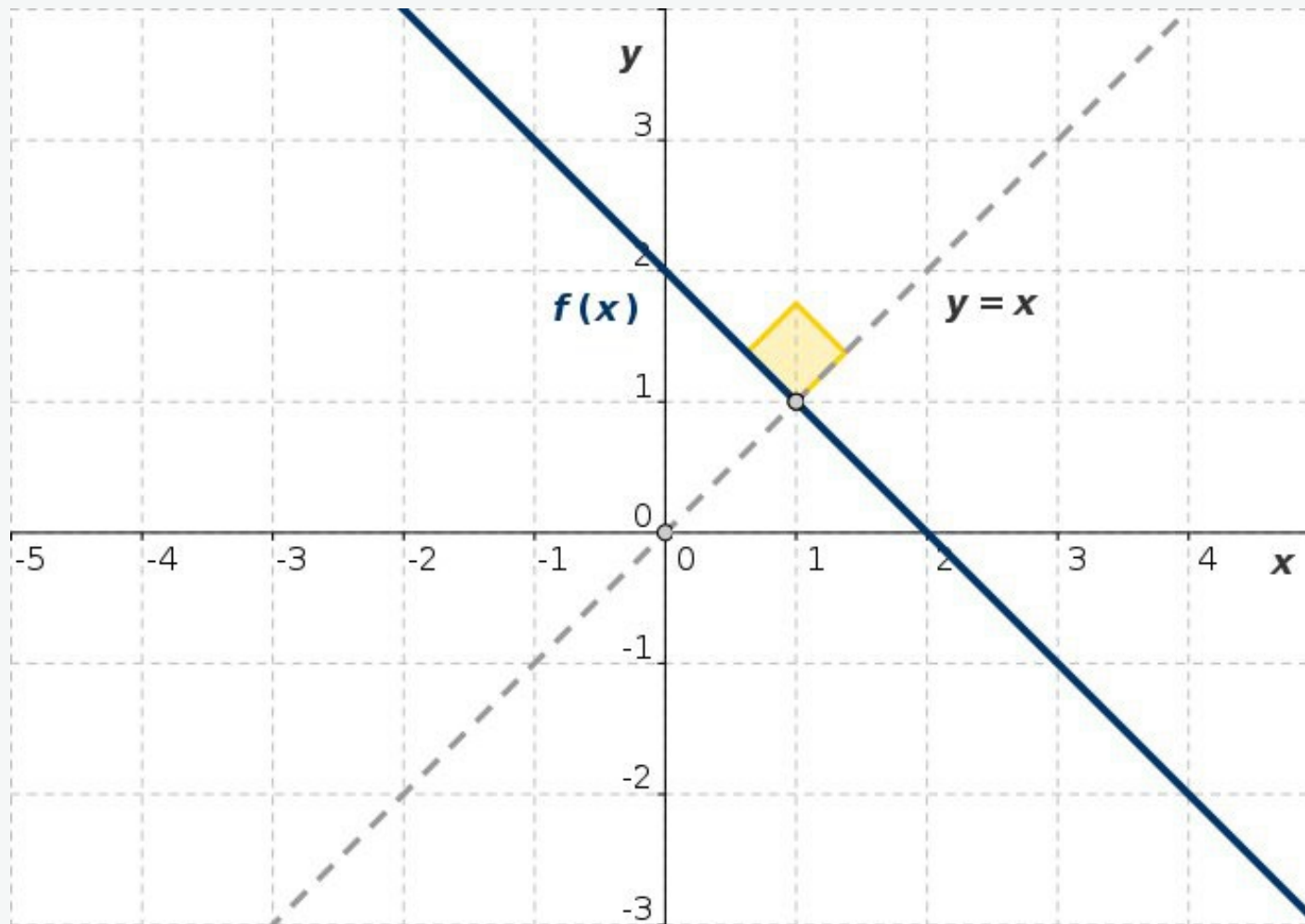


Abb. L3: Funktion und Umkehrfunktion sind identisch

$$f : y = 2 - x, \quad f^{-1} : x = 2 - y = f^{-1}(y)$$

$$f^{-1} : y = 2 - x = f^{-1}(x)$$

Umkehrfunktion: Lösung 4

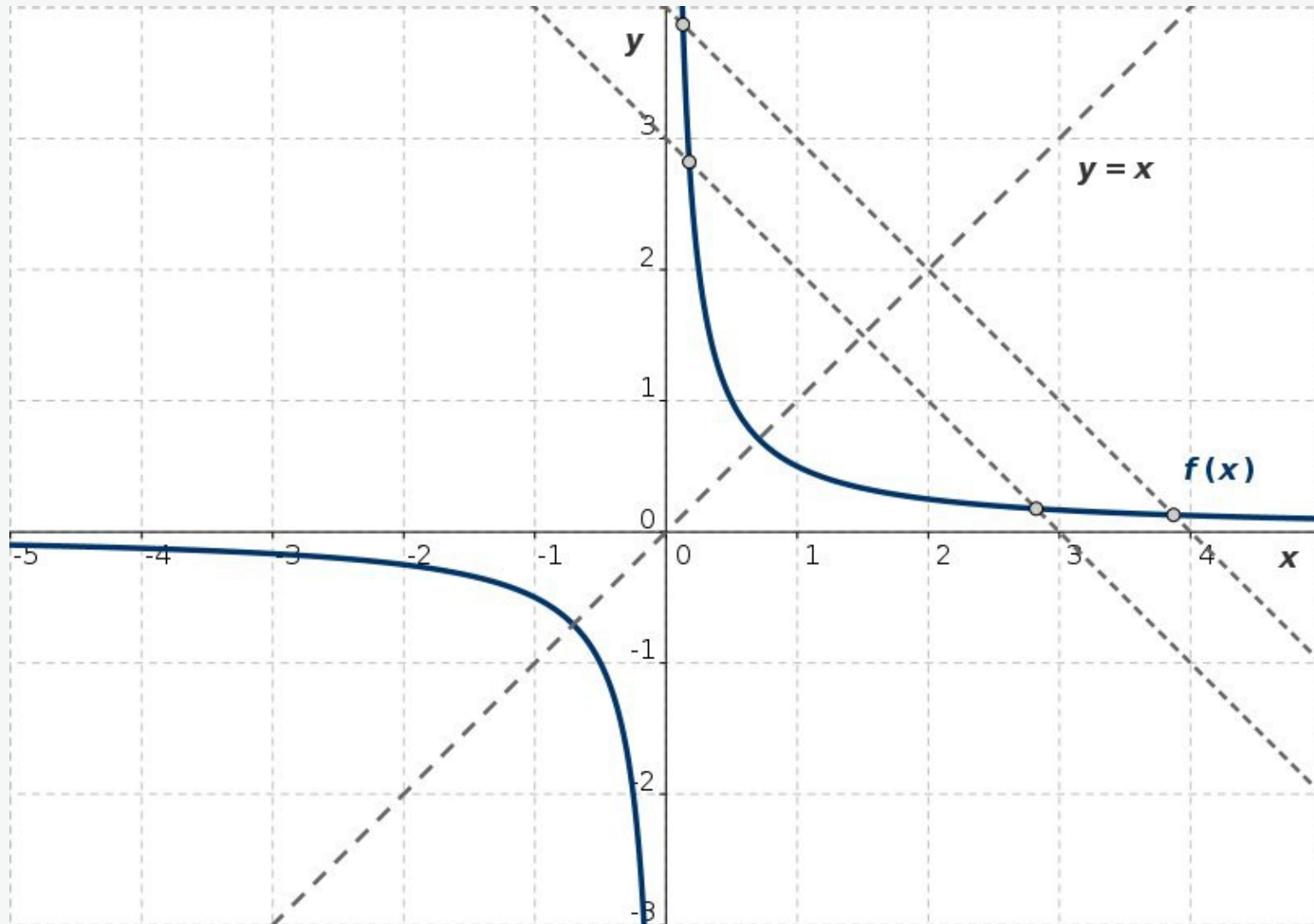


Abb. L4: Funktion und Umkehrfunktion sind gleich

$$f : y = \frac{1}{2x}, \quad f^{-1} : x = \frac{1}{2y} \quad (x \rightarrow y, \quad y \rightarrow x) \quad f^{-1} : y = \frac{1}{2x}$$

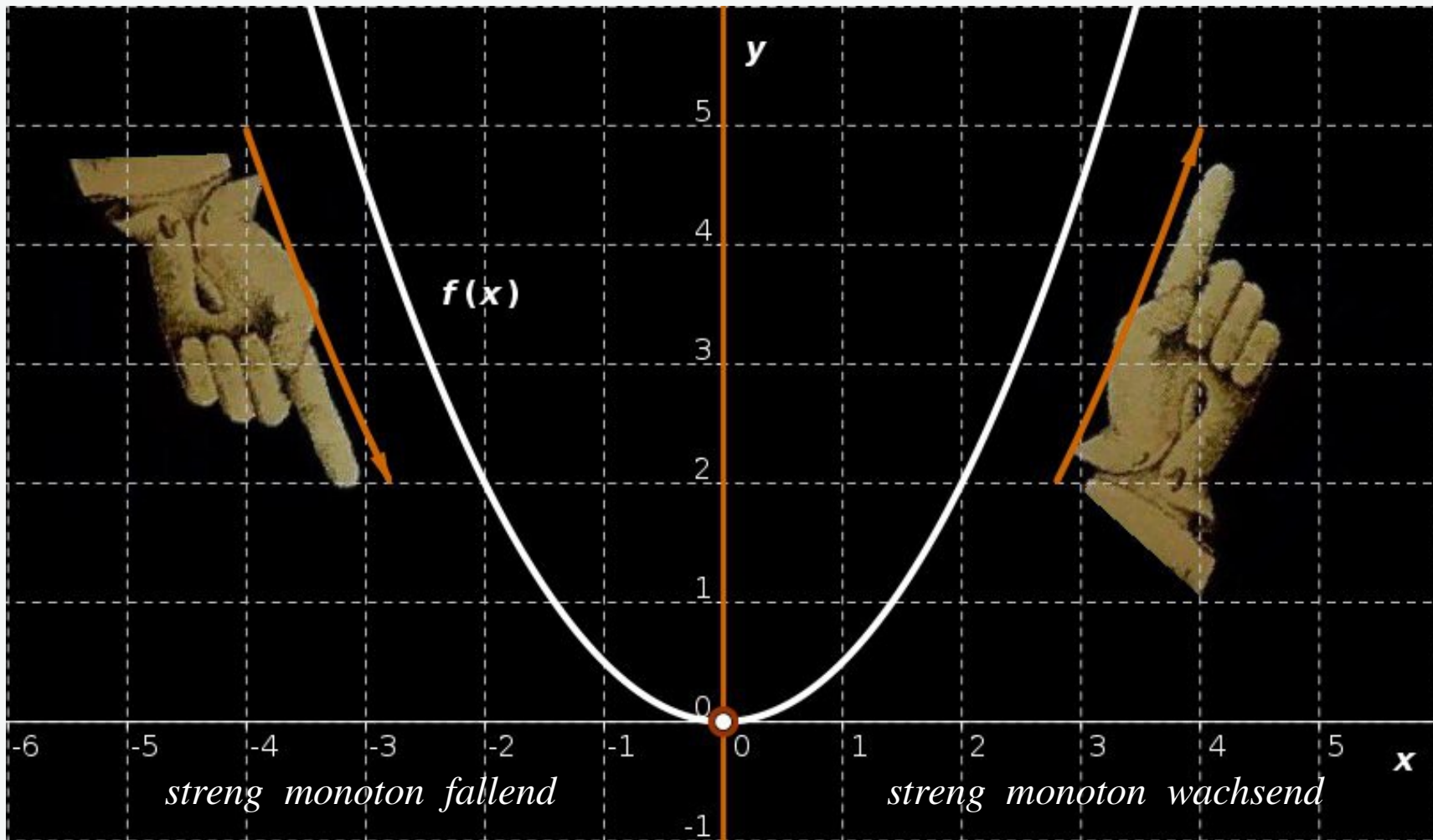


Abb. L5a: Die Funktion $y = x^2/2$ und ihr Monotonieverhalten

Die Funktion $y = x^2/2$ ist nicht umkehrbar im ganzen Definitionsbereich, aber umkehrbar in Bereichen mit einem bestimmten Monotonieverhalten, d.h. für negative und positive x . Im Folgenden werden wir die Funktion in beiden Bereichen betrachten.

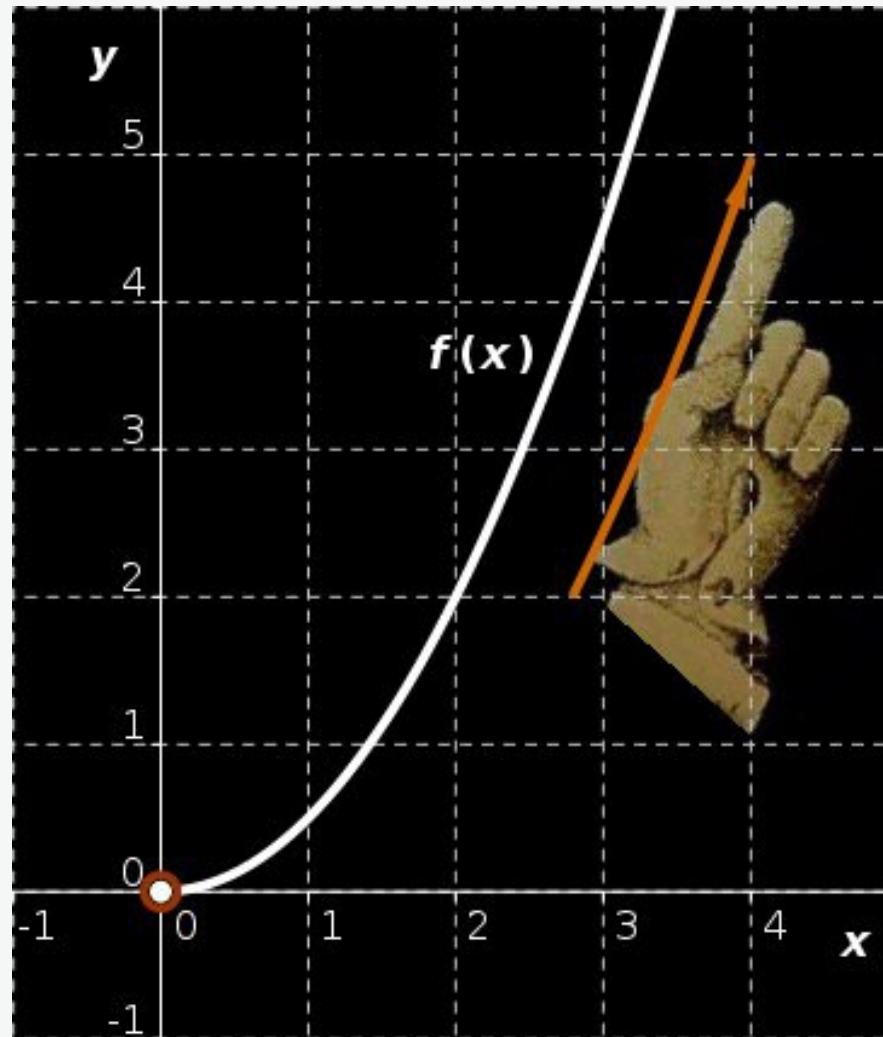


Abb. L5b: Die Funktion $y = x^2/2$ im Bereich positiver x

Wir bestimmen zuerst die Umkehrfunktion der Funktion $y = x^2/2$ im Bereich positiver x . Die Funktion ist in diesem Bereich streng monoton wachsend.

Umkehrfunktion: Lösung 5

Streng monoton wachsende Funktion (Abb. L.5b)

$$f_1 : y = \frac{x^2}{2}, \quad D(f_1) = [0, \infty)$$

$$f_1^{-1} : x = \sqrt{2y}, \quad x \rightarrow y, \quad y \rightarrow x : y = \sqrt{2x}$$

$$D(f_1^{-1}) = [0, \infty), \quad W(f_1^{-1}) = [0, \infty)$$

Die Funktion und die Umkehrfunktion sind in Abb. L5c dargestellt.

Umkehrfunktion: Lösung 5

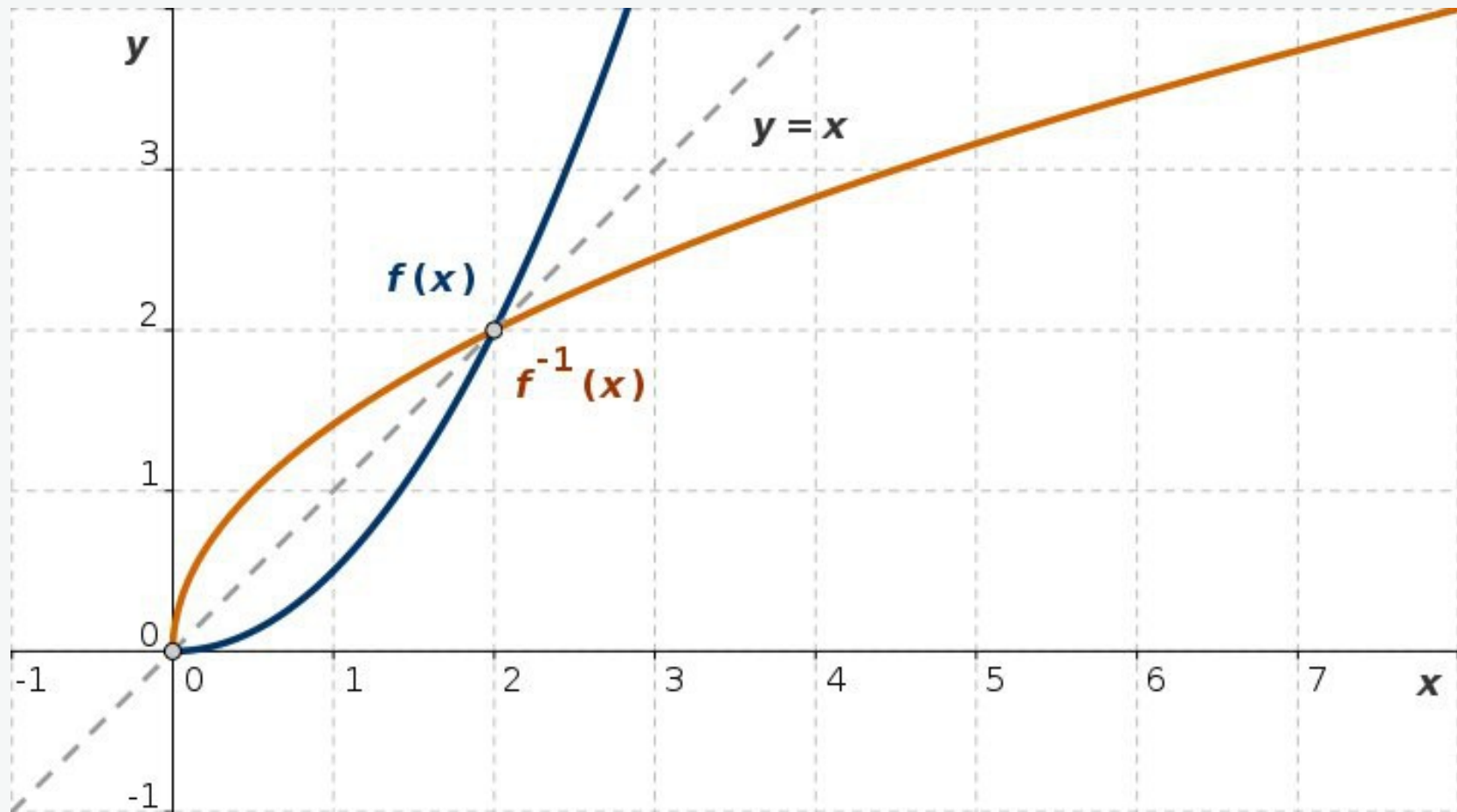


Abb. L5c: Die Funktion $y = f(x)$ im Bereich positiver x und ihre Umkehrfunktion

$$f(x) = \frac{x^2}{2}, \quad f^{-1}(x) = \sqrt{2x}$$

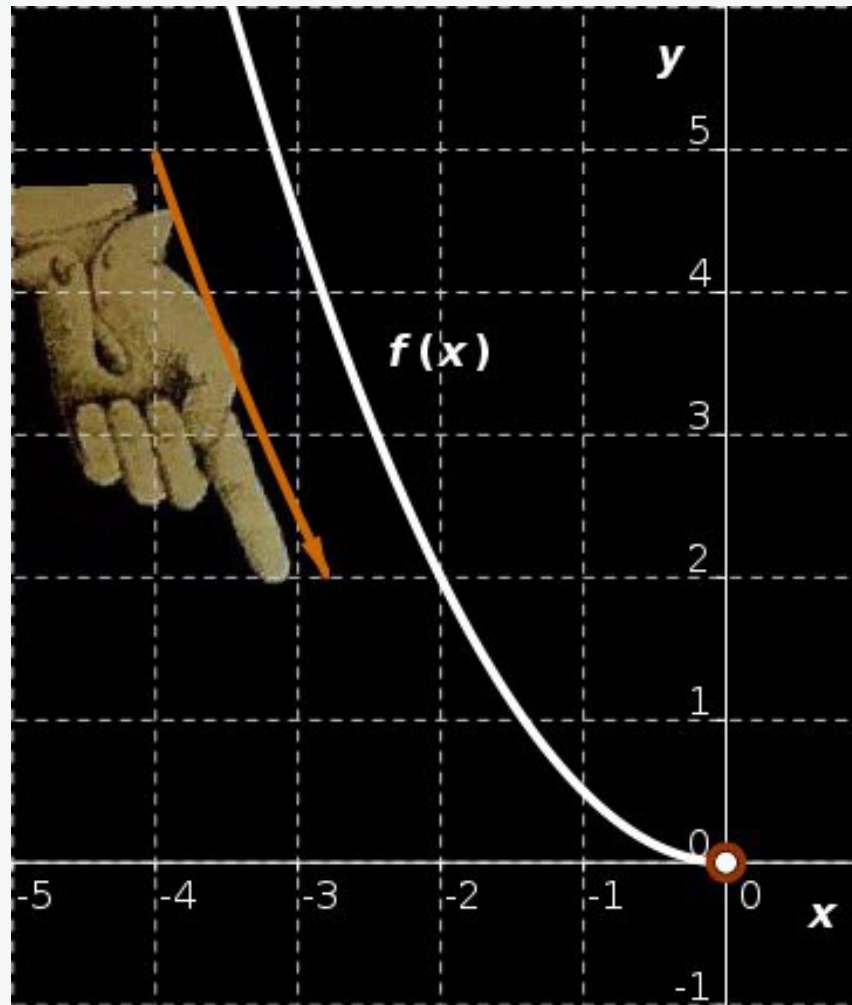


Abb. L5d: Die Funktion $y = x^2/2$ im Bereich negativer x

Wir bestimmen jetzt die Umkehrfunktion der Funktion $y = x^2/2$ im Bereich negativer x . Die Funktion ist in diesem Bereich streng monoton fallend.

Umkehrfunktion: Lösung 5

Streng monoton fallende Funktion (Abb. L.5d)

$$f_2 : y = \frac{x^2}{2}, \quad D(f_2) = (-\infty, 0)$$

$$f_2^{-1} : x = -\sqrt{2y}, \quad x \rightarrow y, \quad y \rightarrow x : y = -\sqrt{2x}$$

$$D(f_2^{-1}) = (0, \infty), \quad W(f_2^{-1}) = (-\infty, 0)$$

Die Funktion und die Umkehrfunktion sind in Abb. L5e dargestellt.

Die Umkehrfunktion für positive und negative x sind in Abb. L5f dargestellt.

Umkehrfunktion: Lösung 5

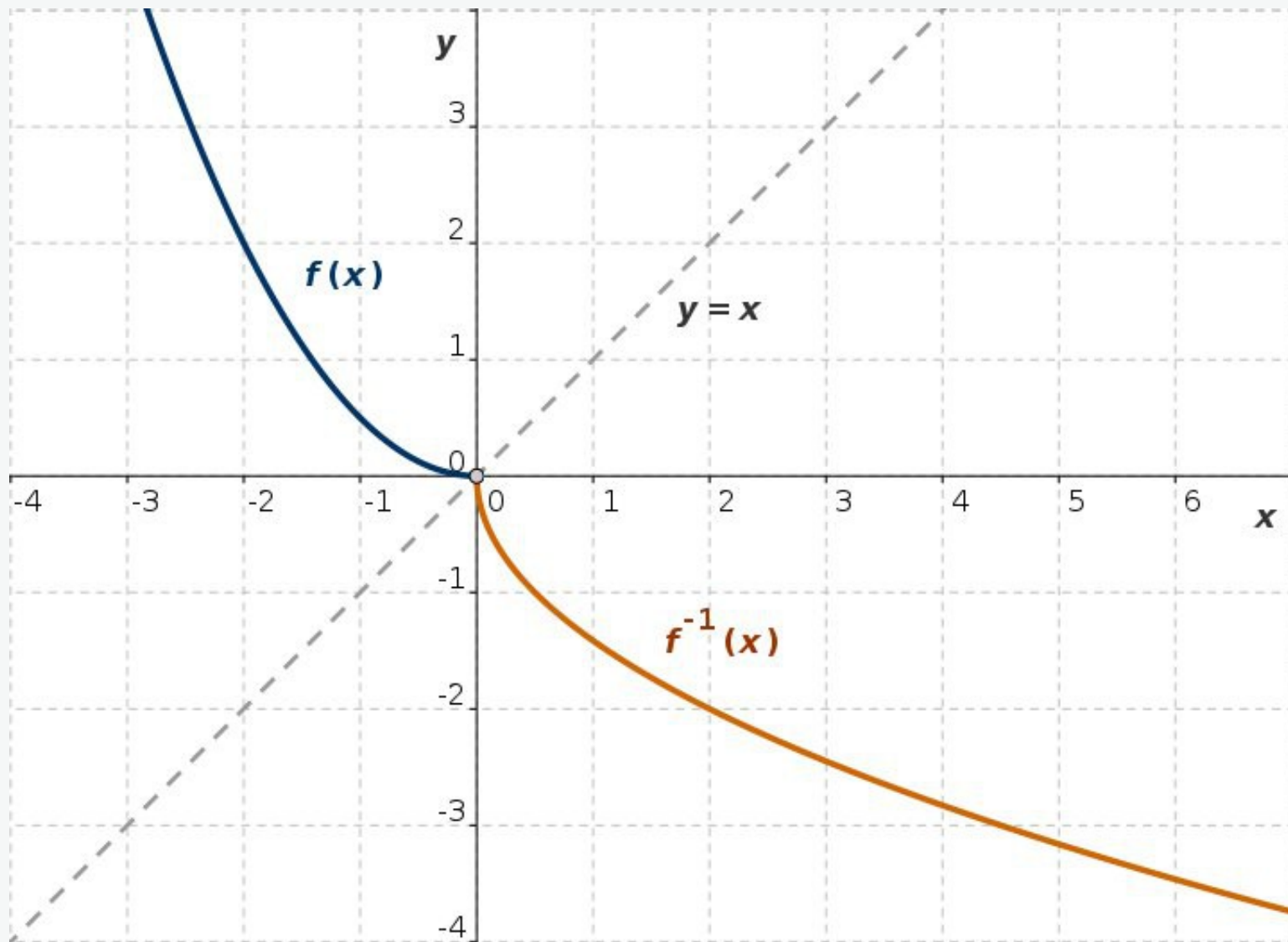


Abb. L5e: Die Funktion $y = f(x)$ im Bereich negativer x und ihre Umkehrfunktion

$$f(x) = \frac{x^2}{2}, \quad f^{-1}(x) = -\sqrt{2x}$$

Umkehrfunktion: Lösung 5

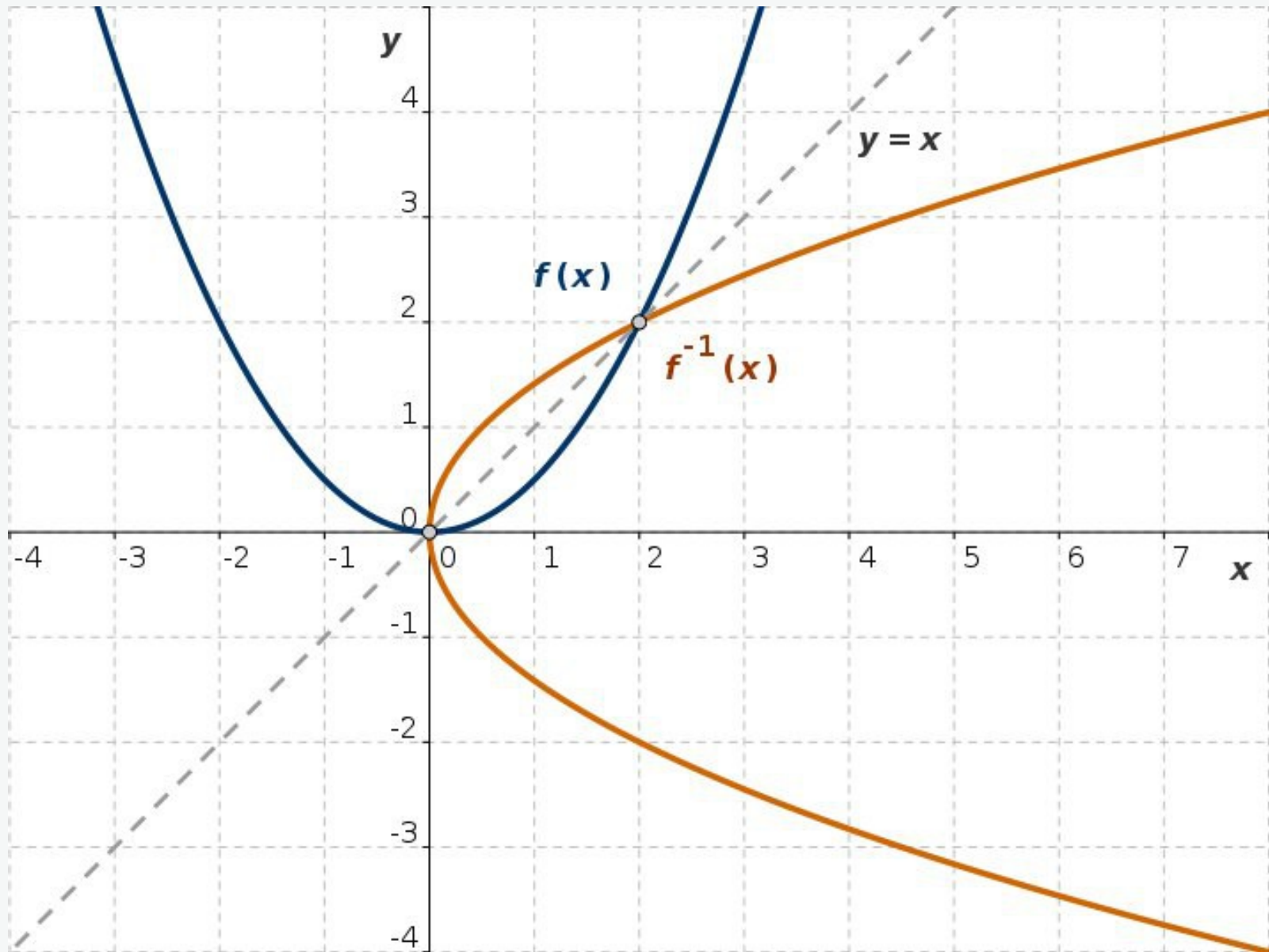


Abb. L5f: Die Funktion $y = f(x)$ und ihre Umkehrfunktion

Umkehrfunktion: Lösung 6

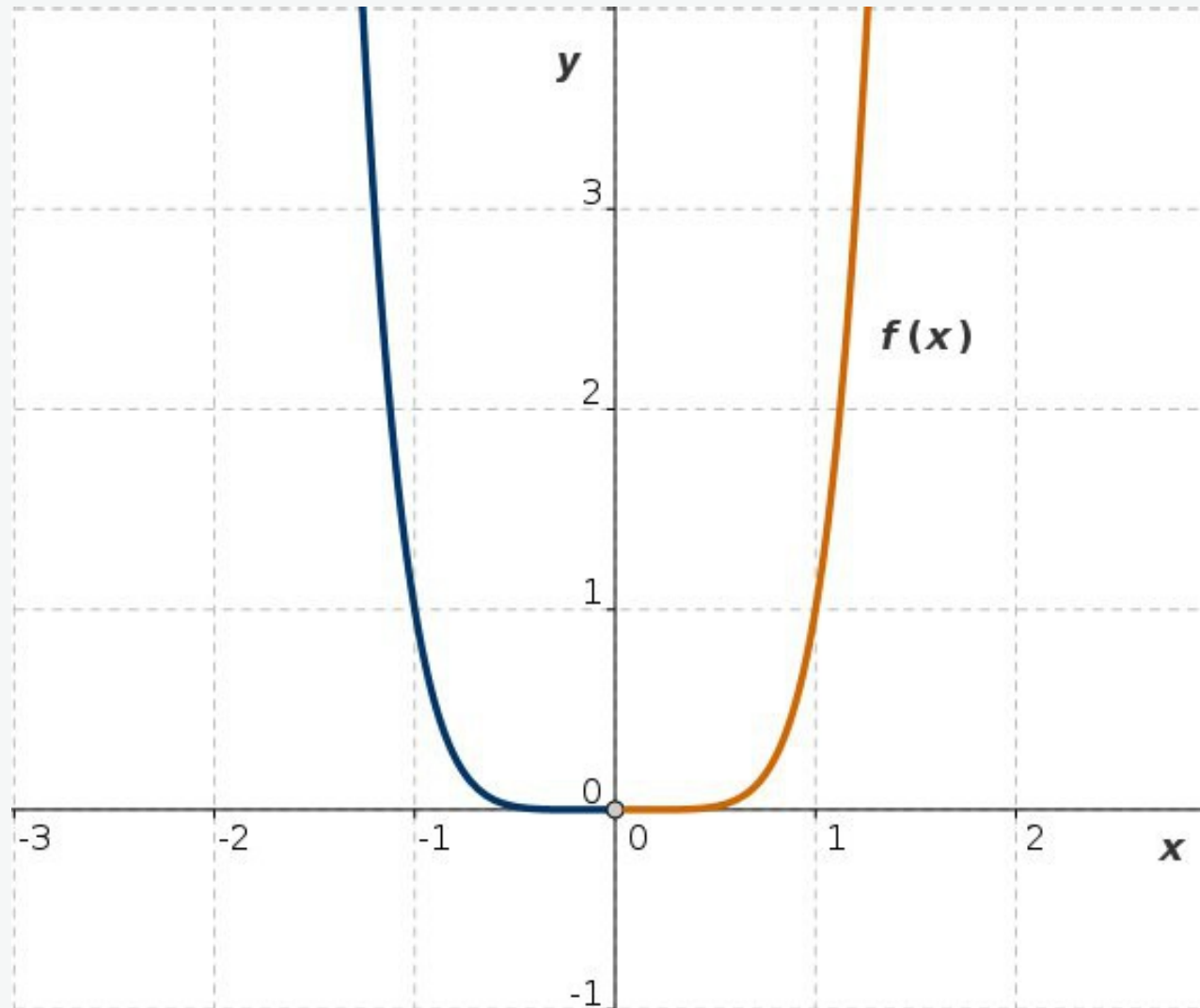


Abb. L6a: Die Funktion $y = f(x)$ ist streng monoton fallend im Bereich negativer x und streng monoton wachsend im Bereich positiver x

$$f(x) = x^6$$

Umkehrfunktion: Lösung 6

$$f(x) = x^6$$

$$f_1 : y = x^6, \quad D(f_1) = [0, \infty)$$

$$f_2 : y = x^6, \quad D(f_2) = (-\infty, 0)$$

$$f_1^{-1} : x = \sqrt[6]{y}, \quad f_2^{-1} : x = -\sqrt[6]{y}$$

$$f_1^{-1} : y = \sqrt[6]{x}, \quad D(f_1^{-1}) = [0, \infty), \quad W(f_1^{-1}) = [0, \infty)$$

$$f_2^{-1} : y = -\sqrt[6]{x}, \quad D(f_2^{-1}) = [0, \infty), \quad W(f_2^{-1}) = (-\infty, 0)$$

Umkehrfunktion: Lösung 6

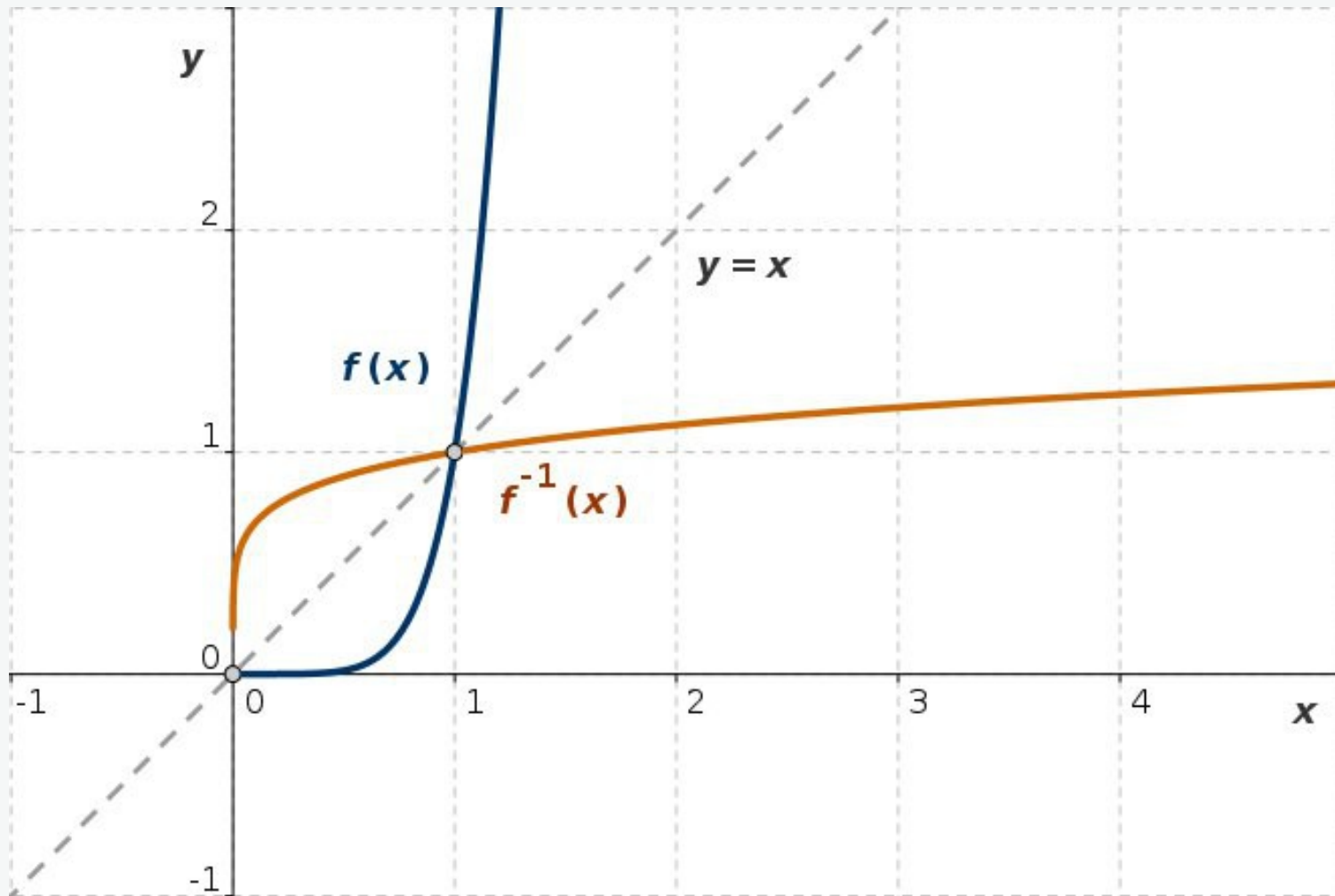


Abb. L6b: Die Funktion $y = f(x)$ im Bereich positiver x und ihre Umkehrfunktion

$$f(x) = x^6, \quad f^{-1}(x) = \sqrt[6]{x}$$

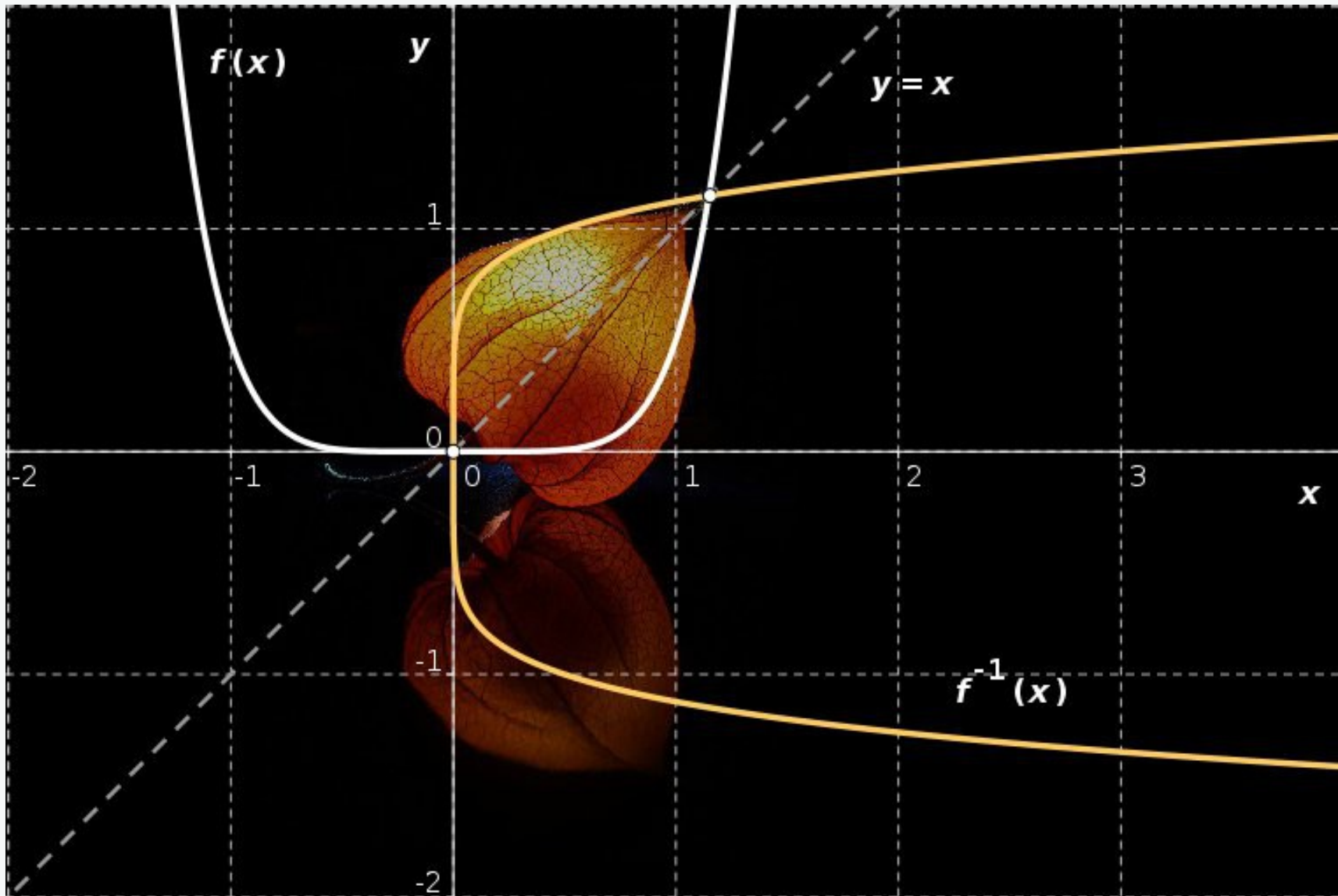


Abb. L6c: Die Funktion $y = f(x)$ und ihre Umkehrfunktion