

Betrag

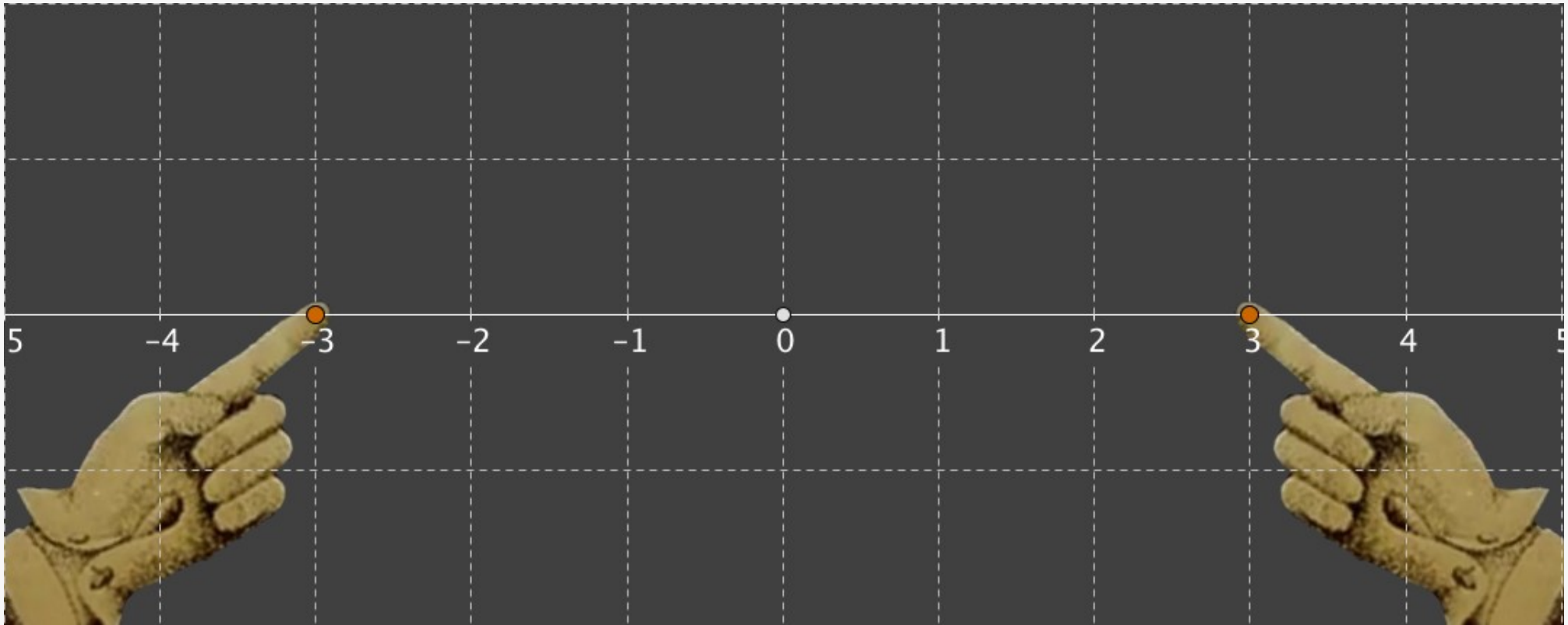


Abb. 1-1a: Graphische Bestimmung der Punkte auf der Zahlengerade, deren Abstand von Null gleich 3 ist.

Stellen wir uns folgende Aufgabe vor: Es soll eine Zahl oder mehrere Zahlen auf der Zahlengerade bestimmt werden, deren Abstand von Null gleich 3 ist. Da es zwei Bereiche auf der Zahlengerade gibt, links und rechts von Null, können wir zwei Punkte, 3 und -3, einzeichnen, die beide den Abstand 3 von 0 haben.

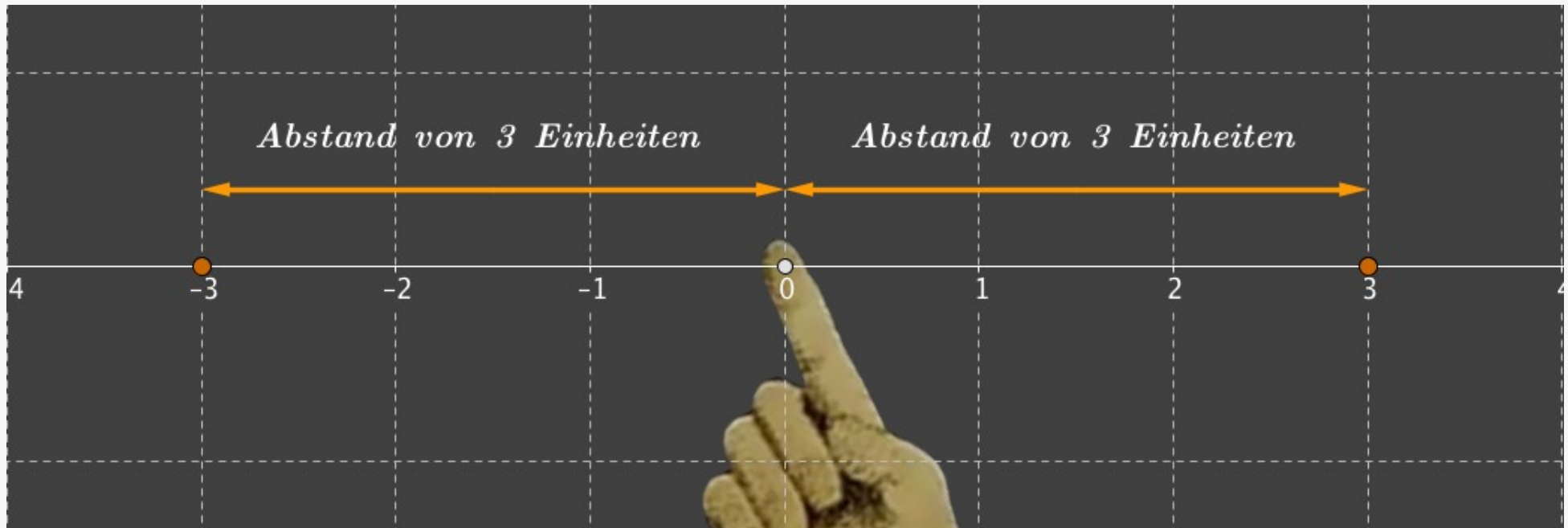


Abb. 1-1b: Die Punkte -3 und 3 haben den Abstand 3 vom Punkt Null

Wichtig! Abstände sind immer positive Größen! Obwohl sich die beiden Punkte in verschiedenen Richtungen von 0 befinden, haben beide den Abstand $+3$ vom Ursprung 0 .

Abstände sind immer positiv!

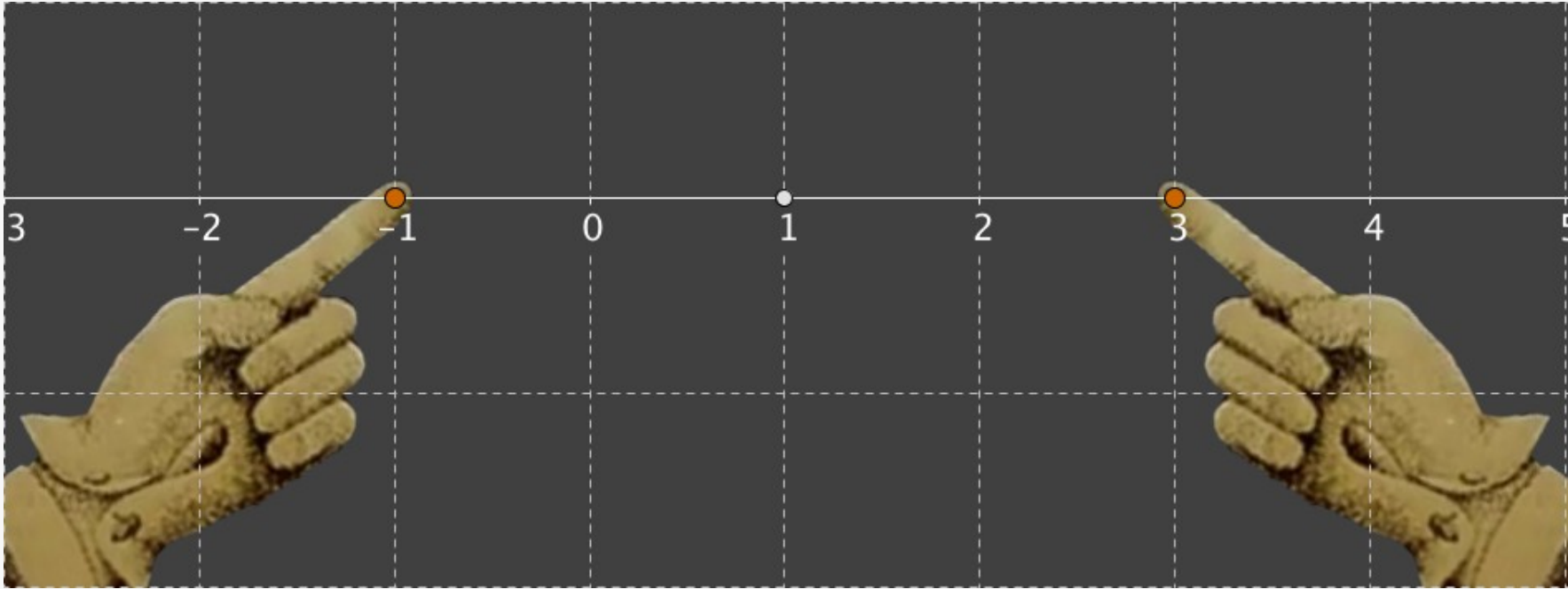


Abb. 1-2a: Graphische Bestimmung der Punkte auf der Zahlengerade, deren Abstand von 1 gleich 2 ist.

Stellen wir uns eine andere Aufgabe vor: Es sollen Zahlen auf der Zahlengerade bestimmt werden, deren Abstand von der Zahl 1 gleich 2 ist.

Wir finden die Punkte -1 und 3 , die beide den Abstand 2 vom Punkt 1 haben.

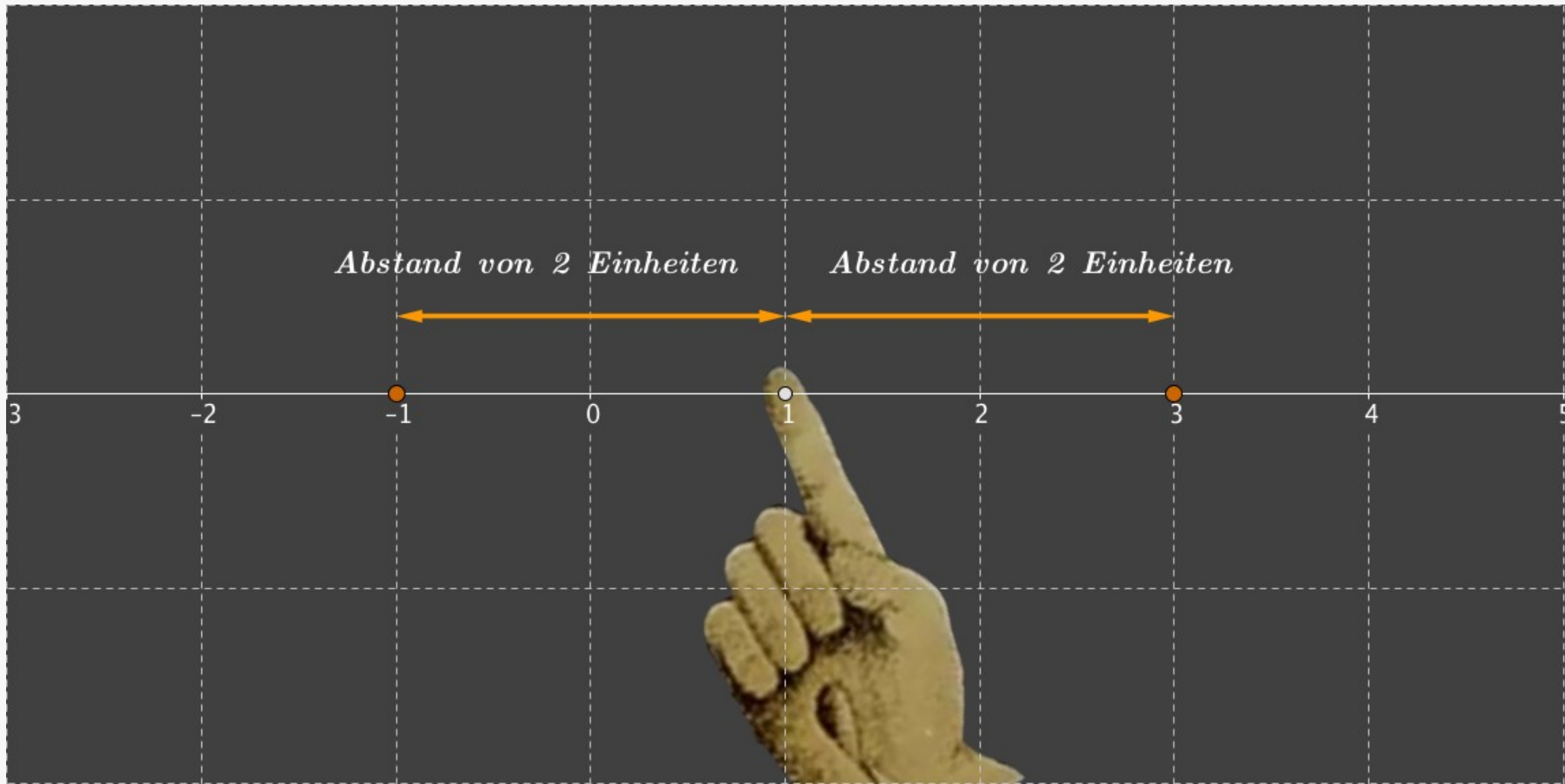


Abb. 1-2b: Die Punkte -1 und 3 haben den Abstand 2 vom Punkt 1

Wie kann man Abstandsaufgaben wie z.B.

“Bestimmen Sie die Zahlen (oder alle x), deren Abstand von der Zahl a gleich d ist”.

algebraisch beschreiben? Solche Aufgaben lassen sich folgendermaßen formulieren:

$$|x - a| = d$$

Die Aufgabe der Seite 1-1 kann man algebraisch so schreiben:

$$|x - 0| = 3 \quad \text{oder} \quad |x| = 3$$

Die Aufgabe auf der Seite 1-3 wird entsprechend so formuliert: $|x - 1| = 2$

Dabei können die x -Werte, die diese Gleichungen erfüllen positiv oder negativ sein. Der Abstand $|x - a|$ ist aber immer positiv. Die Zeichen, zwischen denen $x - a$ steht, nennt man “Betragzeichen” und die Größe $|x - a|$ “Betrag von $x - a$ ”. Die Gleichungen und ihre Lösungen schreibt man in der Form:

$$|x| = 3, \quad x_1 = -3, \quad x_2 = 3$$

$$|x - 1| = 2, \quad x_1 = -1, \quad x_2 = 3$$

Geometrisch gesehen ist der Betrag einer reellen Zahl x , also $|x|$, ihr Abstand von Null.

Definition:

Der Betrag $|x|$ einer reellen Zahl x wird folgendermaßen definiert:

$$|x| = \begin{cases} x, & \text{für } x \geq 0 \\ -x, & \text{für } x < 0 \end{cases}$$

Der Betrag von x kann auch als Wurzel aus x^2 definiert werden:

$$|x| = \sqrt{x^2}$$

Der Betrag einer negativen Zahl ist also eine positive Zahl, genauso wie der einer positiven Zahl.

$$|x - a| = \begin{cases} x - a, & \text{für } x \geq a \\ -(x - a), & \text{für } x < a \end{cases}$$

$$|x - 1| = 2, \quad x - 1 = 0, \quad x = 1$$

$$|x - 1| = \begin{cases} x - 1, & \text{für } x \geq 1 \\ -(x - 1), & \text{für } x < 1 \end{cases}$$

$$a) \ x \geq 1, \quad x - 1 = 2, \quad x_1 = 3$$

$$b) \ x < 1, \quad -(x - 1) = 2, \quad -x + 1 = 2, \quad x_2 = -1$$

Aufgabe 1:

Lösen Sie graphisch folgende Betragsgleichungen

a) $|x| = 4,$

b) $|x - 2| = 1,$

c) $|x + 1| = 3,$

d) $|x + 2| = 4,$

e) $|x - 5| = -2.$

Aufgabe 2:

Lösen Sie folgende Betragsgleichungen (siehe die Seite 1-7)

a) $|x - 11| = 5,$ b) $|x + 6| = 9,$ c) $|x - 2.5| = 1.5$

d) $|x - 0.3| = 1.2,$ e) $|x + 0.2| = 0.5,$ f) $|x - 1.6| = 2.4$

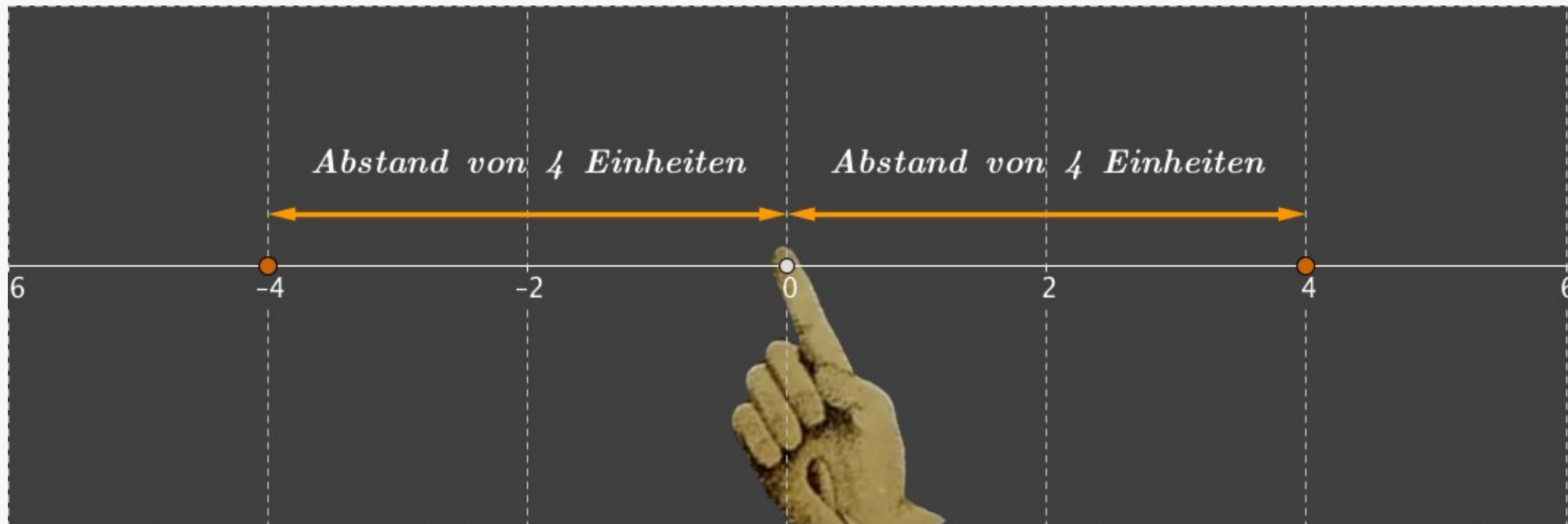


Abb. A-1a: Graphische Lösung der Gleichung $|x| = 4$. Diese Gleichung hat zwei reelle Lösungen -4 und 4 , die dem Abstand von der Zahl 0 auf der Zahlengerade entsprechen

$$|x| = 4, \quad x_1 = -4, \quad x_2 = 4$$



Abb. A-1b: Graphische Lösung der Gleichung $|x - 2| = 1$. Diese Gleichung hat zwei reelle Lösungen 1 und 3, die dem Abstand 1 von der Zahl 2 entsprechen.

$$|x - 2| = 1, \quad x_1 = 1, \quad x_2 = 3$$



Abb. A-1c: Graphische Lösung der Gleichung $|x + 1| = 3$. Diese Gleichung hat zwei reelle Lösungen -4 und 2, die dem Abstand 3 von der Zahl -1 entsprechen.

$$|x + 1| = |x - (-1)| = 3, \quad x_1 = -4, \quad x_2 = 2$$

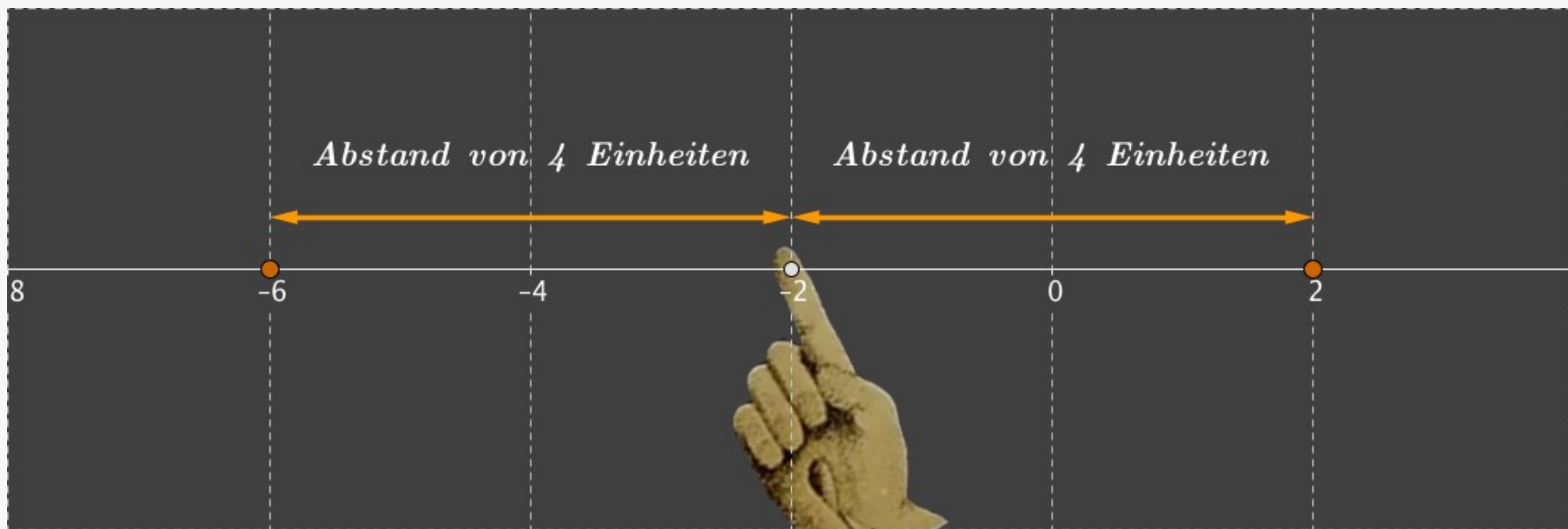


Abb. A-1d: Graphische Lösung der Gleichung $|x + 2| = 4$. Diese Gleichung hat zwei reelle Lösungen -6 und 2 , die dem Abstand 4 von der Zahl -2 entsprechen.

$$d) |x + 2| = |x - (-2)| = 4, \quad x_1 = -6, \quad x_2 = 2$$

$$e) |x - 5| = -2$$

Die Betragsgleichung $|x - 5| = -2$ hat keine Lösung, da der Betrag nicht negativ sein kann.

$$a) |x - 11| = 5, \quad x_1 = 6, \quad x_2 = 16$$

$$b) |x + 6| = 9, \quad x_1 = -15, \quad x_2 = 3$$

$$c) |x - 2.5| = 1.5, \quad x_1 = 1, \quad x_2 = 4$$

$$d) |x - 0.3| = 1.2, \quad x_1 = -0.9, \quad x_2 = 1.5$$

$$e) |x + 0.2| = 0.5, \quad x_1 = -0.7, \quad x_2 = 0.3$$

$$f) |x - 1.6| = 2.4, \quad x_1 = -0.8, \quad x_2 = 4$$

Betragsfunktion: Aufgabe 3

Beschreiben Sie den Abstand der Punkte A und B vom Punkt P durch eine Betragsgleichung der Form $|x - a| = d$. Bestimmen Sie die reellen Größen a und d für die Abbildungen Abb. 3a, 3b und 3c.




Abb. A-3a: Graphische Darstellung der Aufgabe 3a).

Betragsfunktion: Aufgabe 3




Abb. A-3b: Graphische Darstellung der Aufgabe 3b). Der Abstand des Punktes P zu den Punkten A und B ist zu bestimmen und in Form einer Betragsgleichung aufzuschreiben

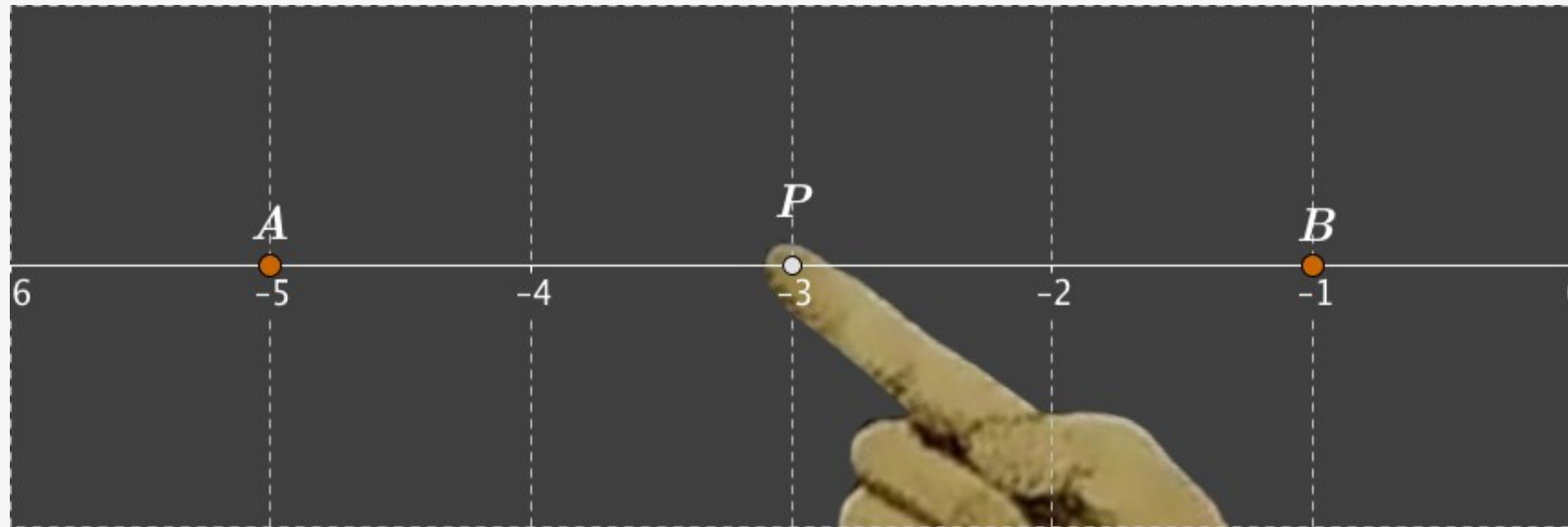


Abb. A-3c: Graphische Darstellung der Aufgabe 3c). Der Abstand des Punktes P zu den Punkten A und B ist zu bestimmen und in Form einer Betragsgleichung aufzuschreiben

$$|x - a| = d$$

Abb. 3a: $|x + 2| = 1.5, \quad a = -2, \quad d = 1.5$

Abb. 3b: $|x + 1| = 2.5, \quad a = -1, \quad d = 2.5$

Abb. 3c: $|x + 3| = 2, \quad a = -3, \quad d = 2$

Betrag einer Zahl, Eigenschaften:

a , b , c und x seien reelle Zahlen, die Zahl n ist eine ganze Zahl, dann gelten folgende Regeln:

Produktregel: $|a \cdot b| = |a| \cdot |b|$

Quotientenregel: $\left| \frac{a}{b} \right| = \frac{|a|}{|b|}$

Potenzregel: $|a^n| = |a|^n$

- 1) $|x| = 0$, für $x = 0$.
- 2) Die Gleichung $|x| = c$ hat zwei Lösungen $x = c$ und $x = -c$, wenn c eine positive Zahl ist.
- 3) Die Gleichung $|x| = c$ hat keine Lösung, falls c eine negative Zahl ist.

Aufgabe 4:

Zeigen Sie an Beispielen folgende Betragseigenschaft:

$$|a + b| \leq |a| + |b|, \quad a, b \in \mathbb{R}$$

Aufgabe 5:

Geben Sie algebraische und graphische Lösungen der Betragsungleichungen:

$$a) |x| \leq 2, \quad b) |x| \geq 3, \quad c) |x| < 1, \quad d) |x| > 1.5$$

Um diese Ungleichung zu bestätigen, betrachten wir drei Fälle für reelle Zahlen a und b :

1) Beide a und b sind positiv.

2) Beide a und b sind negativ.

3) Eine der Zahlen a und b ist positiv, die andere - negativ.

$$|a + b| \leq |a| + |b|, \quad a, b \in \mathbb{R}$$

1) $a = 3, b = 7, \quad |3 + 7| = |10| = 10, \quad |3| + |7| = 3 + 7 = 10.$

$$a, b > 0, \quad |a + b| = |a| + |b|$$

2) $a = -4, b = -12, \quad |-4 + (-12)| = |-4 - 12| = |-16| = 16.$

$$|-4| + |-12| = 4 + 12.$$

$$a, b < 0, \quad |a + b| = |a| + |b|$$

3) $a = -9, b = 15, \quad |-9 + 15| = |6| = 6, \quad |-9| + |15| = 9 + 15 = 24.$

$$a < 0, b > 0, \quad |a + b| < |a| + |b|$$

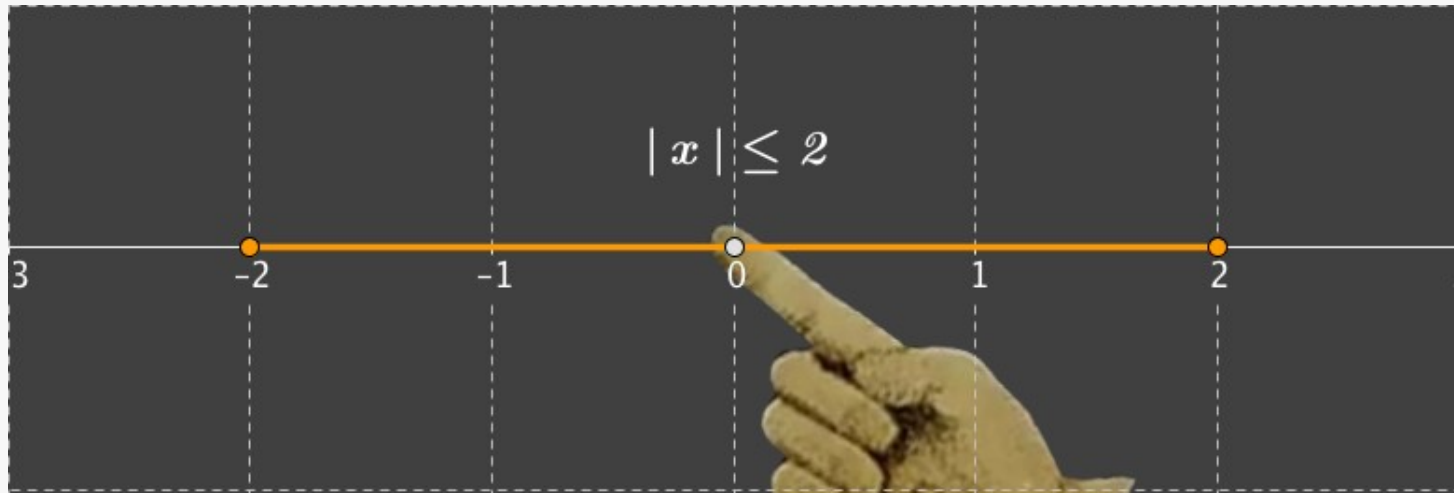


Abb. A-5a: Graphische Darstellung der Aufgabe 5a). Alle x im abgeschlossenen Intervall $[-2, 2]$ erfüllen die Betragsungleichung $|x| \leq 2$. Geometrisch betrachtet sind das alle x , deren Abstand von Null kleiner oder gleich 2 ist.

Die algebraische Lösung hat die Form:

$$|x| \leq 2, \quad x = [-2, 2]$$




Abb. A-5b: Graphische Darstellung der Aufgabe 5b). Alle x , die nicht im Intervall $(-3, 3)$ sind, erfüllen die Betragsungleichung $|x| \geq 3$. Geometrisch betrachtet sind das alle x , deren Abstand von Null größer oder gleich 3 ist

$$|x| \geq 3, \quad x = (-\infty, -3] \cup [3, +\infty)$$

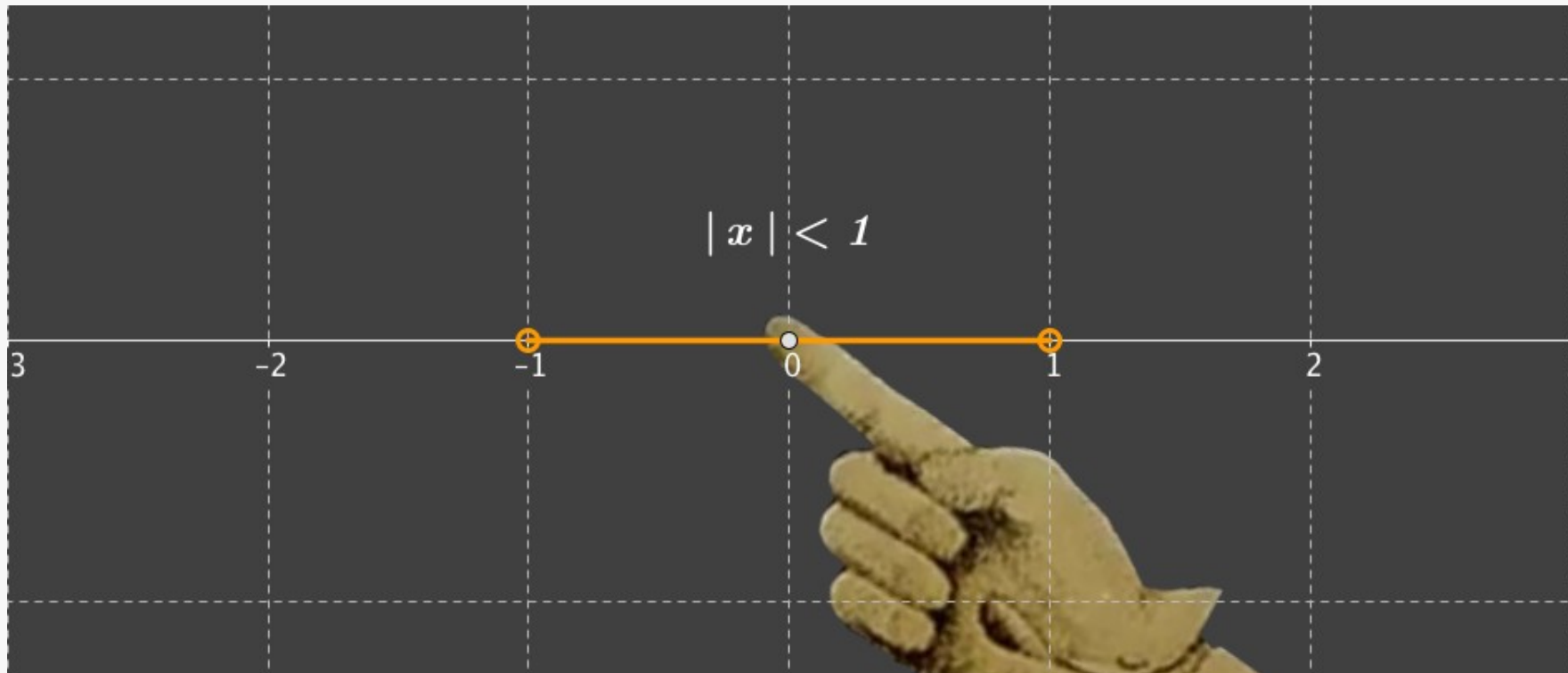


Abb. A-5c: Graphische Darstellung der Aufgabe 5c). Alle x im Intervall $(-1, 1)$ erfüllen die Betragsungleichung $|x| < 1$. Geometrisch betrachtet sind das alle x , deren Abstand von Null kleiner 1 ist.

Die algebraische Lösung hat die Form:

$$|x| < 1, \quad x \in (-1, 1), \quad x \neq -1, \quad x \neq 1$$



Abb. A-5d: Graphische Darstellung der Aufgabe 5d). Alle x , die nicht im Intervall $[-1.5, 1.5]$ sind, erfüllen die Betragsungleichung $|x| > 1.5$. Geometrisch betrachtet sind das alle x , deren Abstand von Null größer als 1.5 ist

$$|x| > 1.5, \quad x \in (-\infty, -1.5) \cup (1.5, +\infty)$$

Lösen Sie graphisch folgende Betragsungleichungen und schreiben Sie die Lösungen algebraisch auf:

$a) |x - 3| \leq 2,$ $b) |x + 1| \geq 4,$ $c) |x - 7| \geq 1.5$

$d) |x - 1| < 4,$ $e) |x + 3| > 6,$ $f) |x - 5| < 3$

Die algebraischen Lösungen:

$$a) |x - 3| \leq 2, \quad x = [1, 5]$$

$$b) |x + 1| \geq 4, \quad x = (-\infty, -5] \cup [3, +\infty)$$

$$c) |x - 7| \geq 1.5, \quad x = (-\infty, 5.5] \cup [8.5, +\infty)$$

$$d) |x - 1| < 4, \quad x = (-3, 5)$$

$$e) |x + 3| > 6, \quad x = (-\infty, -9) \cup (3, +\infty)$$

$$f) |x - 5| < 3, \quad x = (2, 8)$$

